

## KARTA PRACY

### Bogusław XIV. Ostatni Gryfita

#### Zadanie 1.

Na podstawie tekstu **artykułu** oraz wiedzy z lekcji historii (lub ZPE<sup>1</sup>) uzupełnij poniższą tabelę.

#### Pomorze Zachodnie a wojna trzydziestoletnia (1618-1648)

Okres wojny	Informacje dotyczące panowania Bogusława XIV	Sytuacja militarna na Pomorzu	Działania wojenne w Europie
czesko-palatynacki lata: .....			
duński lata: .....			
szwedzki lata: .....			
francuski lata: .....			

<sup>1</sup> Podczas rozwiązywania zadań w tej karcie pracy można wykorzystać tematy: *Wojna trzydziestoletnia. Działania wojenne w latach 1624–1635*, Zintegrowana Platforma Edukacyjna <https://zpe.gov.pl/b/wojna-trzydziestoletnia-dzialania-wojenne-w-latach-1624-1635/P2xJMn6Z> oraz *Wojna europejska (trzydziestoletnia) z udziałem Francji. Pokój westfalski*, Zintegrowana Platforma Edukacyjna <https://zpe.gov.pl/a/przeczytaj/D15D400gM>

**Zadanie 2.**

Na podstawie tekstu **artykułu** oraz wiedzy z lekcji historii (lub ZPE) uzupełnij poniższą tabelę.

**Decyzje pokoju westfalskiego (1648)**

<b>Decyzje</b>	<b>dotyczące Pomorza</b>	<b>dotyczące reszty Europy</b>
<b>polityczne</b>		
<b>terytorialne</b>		
<b>inne</b>		




### Zadanie 3.

Na podstawie tekstu **artykułu**, mapy nr 1. oraz informacji z podręcznika historii (lub ZPE) wyjaśnij znaczenie strategiczne Pomorza dla działań zbrojnych podczas wojny trzydziestoletniej.

Mapa 1. Działania wojenne podczas wojny trzydziestoletniej



#### WOJNA TRZYDZIESTOLETNIA

- |  |  |
|--|--|
|  Kraje lub obszary w większości protestanckie | ① 1620-1623 : Przegrana Czech i elektora Palatynatu            |
|  Habsburgowie hiszpańscy                      | ② 1625-1629 : Interwencja i przegrana Chrystiana IV Oldenburga |
|  Habsburgowie austriaccy                      | ③ 1630-1632 : Interwencja Gustawa II Adolfa Wazy               |
|  | ④ 1635 : Interwencja Francji przeciwko Hiszpanii i I Rzeszy    |
|  | 1642 : Okupacja Roussillon                                     |
|  | 1643 : Zwycięstwo Francji pod Rocroi                           |
|  | ⑤ 1645-1648 : Kampania niemiecka de Turenne'a i Szwecji        |

0 500 km

Źródło: [https://pl.wikipedia.org/wiki/Wojna\\_trzydziestoletnia#/media/Plik:Map\\_Thirty\\_Years\\_War-pl.svg](https://pl.wikipedia.org/wiki/Wojna_trzydziestoletnia#/media/Plik:Map_Thirty_Years_War-pl.svg)

.....

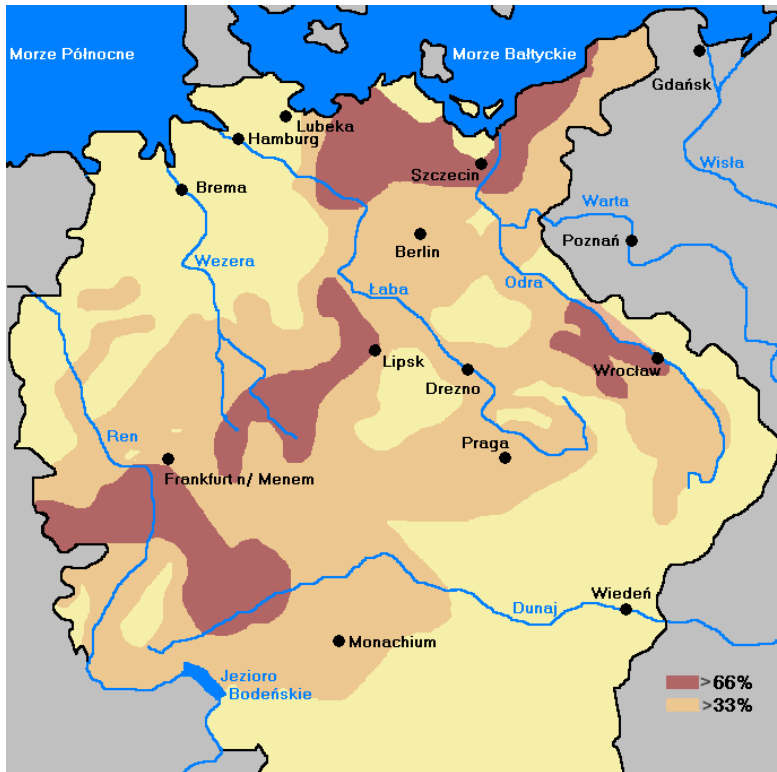
.....

.....

#### Zadanie 4.

Na podstawie treści **artykułu**, mapy nr 2 oraz informacji z podręcznika historii (lub ZPE) wyjaśnij, jakie skutki gospodarcze miała dla Pomorza wojna trzydziestoletnia. Znaczenie strategiczne Pomorza dla działań zbrojnych podczas wojny trzydziestoletniej.

Mapa 2. Straty ludnościowe w Rzeszy na skutek wojny trzydziestoletniej



Źródło:

[https://pl.wikipedia.org/wiki/Wojna\\_trzydziestoletnia#/media/Plik:Straty\\_ludnościowe\\_po\\_wojnie\\_30letniej.PNG](https://pl.wikipedia.org/wiki/Wojna_trzydziestoletnia#/media/Plik:Straty_ludnościowe_po_wojnie_30letniej.PNG)

.....

.....

.....

#### Zadanie 5.

Na podstawie treści **artykułu**, informacji z lekcji historii (lub ZPE) oraz powyższych map, oceń znaczenie wojny trzydziestoletniej dla Pomorza.

.....

.....

.....